

7-8 класс

Вариант 1

Задание 01

Укажите всех князей, носивших титул великого князя Киевского:

А - Иван Калита

В - Мстислав Мстиславович Удатный

С - Юрий Долгорукий

Д - Даниил Галицкий

Е - Ярослав Осмомысл

Ф - Владимир Мономах

Правильный ответ - С, D, F

Задание 02

Прочитайте два текста. **Укажите все верные суждения, относящиеся к описываемым событиям.**

Победитель требовал 12 гривен на каждого человека во флоте своем, и Греки согласились с тем условием, чтобы он, прекратив неприятельские действия, мирно возвратился в отечество. Войско Российское отступило далее от города, и Князь отправил Послов к Императору. Летопись сохранила Норманские имена сих вельмож: Карла, Фарлафа, Веремида, Рулава, Стемида. Они заключили с Константинополем следующий договор [в 907 г.]: "Греки дают по 12 гривен на человека, сверх того уклады на города Киев, Чернигов, Переяславль, Полтеск, Ростов, Любеч и другие, где властвуют Князья, Олеговы подданные". Война была в сии времена народным промыслом: Олег, соблюдая обычай Скандинавов и всех народов Германских, долженствовал разделить свою добычу с воинами и Полководцами, не забывая и тех, которые оставались в России.
(История государства Российского Н.М. Карамзин)

И согласились на это греки, и стали греки просить мира, чтобы не разорял Греческой земли. Олег же, немного отойдя от столицы, начал переговоры о мире с греческими цесарями Леоном и Александром и послал к ним в столицу Карла, Фарлафа, Вермуда, Рулава и Стемида со словами: «Платите мне дань». И сказали греки: «Что хочешь, дадим тебе». И приказал Олег дать воинам своим на две тысячи кораблей по двенадцати гривен на уключину, а

затем дать дань для русских городов: прежде всего для Киева, затем для Чернигова, для Переяславля, для Полоцка, для Ростова, для Любеча и для других городов: ибо по этим городам сидят великие князья, подвластные Олегу.

(Повесть временных лет)

А - Среди послов Олега, заключивших первый письменный договор с Византией, были только славяне.

В - Среди послов Олега, заключивших первый письменный договор с Византией, были варяги.

С - Войско Олега расположилось в центре Царьграда.

Д - Столицей Византии был Константинополь.

Е - Столицей Византии были Афины.

Правильный ответ - В, D

Задание 03

Расположите в хронологическом порядке названия городов по времени их основания или первого упоминания в летописях.

1. 1
2. 2
3. 3
4. 4
5. 5

А - Корсунь (Херсонес Таврический)

В - Муром

С - Суздаль

Д - Москва

Е - Архангельск

Правильный ответ - А-1 В-2 С-3 D-4 Е-5

Задание 04

Рассмотрите предложенные изображения.

Соотнесите их номера с названиями исторических событий.

1.



2.



3.



4.



5.



1. 1
2. 2
3. 3
4. 4
5. 5

А - убийство послов князя Мала по приказу княгини Ольги

В - послы Ивана III встречают Софью Палеолог

С - Александр Невский принимает Папских послов

Д - князь Владимир выслушивает послов, рассказывающих о разных верах

Е - Владимир Мономах ведет переговоры на Любечском съезде князей

Правильный ответ - А-1 В-2 С-3 D-4 Е-5

Задание 05

Укажите те сражения, в которых победу одержали русские войска:

А - битва на Чудском озере (Ледовое побоище)

В - битва на реке Калке

С - битва на реке Воже

Д - битва при Молодях

Е - битва на реке Сить

Ф - битва за Преслав

Правильный ответ - А, С, D

Задание 06

Задание посвящено участию уральцев в Великой Отечественной войне.

Сопоставьте фотографии памятников героям-уральцам с их описанием.



1. 1
2. 2
3. 3
4. 4
5. 5

А - памятник сапёру И.В. Абрамову в г. Каменск-Уральский

В - памятник Д.Н. Смирнову, танкисту-разведчику в Среднеуральске

С - памятник красноармейцу Г.П. Кунавину, повторившему подвиг Александра Матросова, в Каменске-Уральском

Д - памятник разведчику Н.И. Кузнецову в Тюмени

Е - памятник летчику-истребителю А.А. Артамонову в селе Павловская Слобода Истринского района Московской области

Правильный ответ - А-1 В-2 С-3 D-4 Е-5

Задание 07

Прочитайте текст. **Укажите все верные суждения, относящиеся к данному тексту.**

Используйте свои знания и, при необходимости, дополнительную информацию.

Башмаки – шились из юфти и сафьяна; нарядные – из алтабаса, атласа и бархата разных цветов; унизывались жемчугом с запанами и драгоценными камнями; вышивались и строчились золотом, серебром и шелками; украшались круживом или бахромой; подошвы и каблуки подбивались, как у сапогов, или сплошь или только по краям, гвоздями, а каблуки, сверх того, и скобками. Их носили как мужчины, так и женщины. Полагают, что башмаки стали вводиться у нас около XVII столетия. Название этой обуви Татарское: башмак – значит обувь.

(П.И. Савваитов. Описание старинных русских утварей, одежд, оружия, ратных доспехов и конского прибора, в азбучном порядке расположенное.)

А - Башмаки – старинная обувь, которая появилась во времена правления княгини Ольги в Киеве.

В - Башмаки могли быть изготовлены из кожи.

С - Башмаки из кожи – повседневная крестьянская обувь XVIII века.

Д - Происхождение названия «башмак» восходит к греческому языку, так называли обувь с каблуком в Византии.

Е - Башмаки могли быть женской обувью.

Ф - В изготовлении башмаков использовались скобяные изделия.

Правильный ответ - В, Е, Ф

Задание 08

Рассмотрите изображения городских укреплений.

Укажите два верных суждения из предложенных.

1) Московский Кремль



2) Соловецкий монастырь




3) Владимир, крепостные ворота



4) Нижний Новгород, кремль



5) Смоленск, крепостная стена



А - Крепости под номерами 1,4 были основаны до нашествия монголов на Русь.

В - Крепости под номерами 1,5 были основаны после нашествия монголов на Русь.

С - Крепость под номером 2 находится на острове.

Д - Крепость под номером 4 находится на острове.

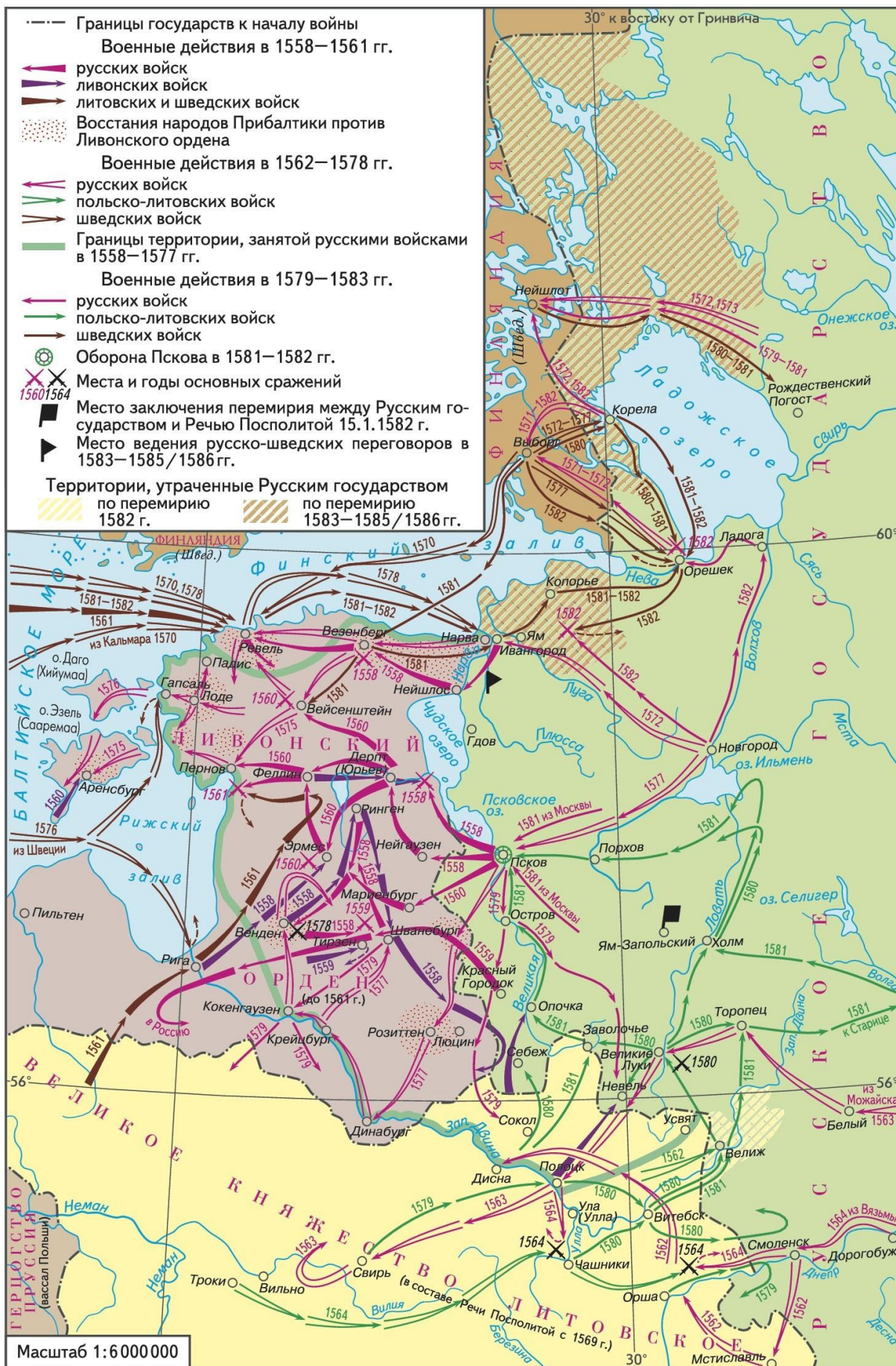
Е - Крепость под номером 3 была построена Иваном Калитой.

Правильный ответ - В, С

Задание 09

Рассмотрите карту и укажите все верные суждения.

ЛИВОНСКАЯ ВОЙНА 1558–1583 гг.



А - В ходе военных действий 1558-1577 гг. русские войска достигли островов Хийумаа и Сааремаа в Балтийском море.

В - В результате Ливонской войны Иван IV одержал победу.

С - На начало Ливонской войны Дерпт (Юрьев) находился на территории Ливонского ордена.

Д - Союзниками России в Ливонской войне выступали литовские войска.

Е - Во время Ливонской войны сражения проходили в том числе на территории королевства Швеции.

Е - Ям-Запольское перемирие было заключено в 1583 году.

Правильный ответ - А, С, Е

Задание 10

Прочитайте тексты, рассмотрите иллюстрации и укажите все верные суждения.

Рис. 1. Помощь уральцев Пугачеву. Худ. М.И. Авилов, Н.В. Левушин, В.А. Печатин. 1952 (Фото М. Золотарева, опубликовано в журнале «Историк»)



Фото 1. Памятник императрице Екатерине II в городе Ирбите. Скульптор В. С. Соколова, архитектор А. Новиков.



«Жители бывшей Ирбитской слободы, под предводительством проживавшего в слободе крестьянина Ивана Назаровича Мартышева, во время Пугачевской смуты, охватившей край в 1774 году, оставаясь верными Престолу и Отечеству, победоносно отразили нападения шаек Пугачева. За сей подвиг жители Ирбитской слободы были облагодетельствованы императрицею Екатериною II-ю, слобода учреждена городом Ирбитью, и герой Иван Назарович Мартышев освобожден был из крестьянства и податного оклада навечно и возведен в дворянское сословие»
(Надпись на мраморной плите одной из сторон постаменты памятника)

«Крестьянин Екатеринбургского уезда Мраморской волости и завода И. В. Пермикин по контракту, заключенному с городской управою 27 сентября 1882 года, обязался построить в г. Ирбита пьедестал под памятник императрице Екатерине II, за что и рядил платы 5400 р. Кроме того, за вырезку надписи по 6 копеек за каждую букву, коих будет состоять до 1000» (Герштейн Я. Л. Судьба памятника Екатерины II в Ирбите // На земле Ирбитской / Я. Л. Герштейн. – Ирбит, 2008. – С. 55-62.)

А - Крестьянское восстание под предводительством Емельяна Пугачева распространялось и на территорию Среднего Урала.

В - Памятник Екатерине II в Ирбите был установлен во время ее правления.

С - При Екатерине II крестьянин мог получить дворянское звание.

Д - Все заводы Урала перешли на сторону Пугачева и снабжали его войска пушками и ядрами.

Е - Ирбитская слобода получила статус города по приказу Екатерины II.

Ф - Средства на установку памятника выделила Императорская канцелярия.

Правильный ответ - А, С, Е

Вариант 2

Задание 01

Укажите всех князей, носивших титул великого князя Киевского:

А - Даниил Галицкий

В - Игорь Новгород-Северский

С - Мстислав Владимирович Великий

Д - Юрий (Георгий) Всеволодович

Е - Рюрик

Ф - Александр Невский

Правильный ответ - А, С, Ф

Задание 02

Прочитайте два текста. Укажите все верные суждения, относящиеся к описываемым событиям.

<...> вооружив 200 судов, сии витязи Севера, издревле опытные в кораблеплавании, открыли себе путь в Черное море и в самый Воспор Фракийский, опустошили огнем и мечем берега его и скоро осадили Константинополь с моря. <...> Михаил III <...> царствовал тогда в Константинополе, но был в отсутствии, воюя на берегах Черной реки с Агарянами. Узнав <...> о новом неприятеле, он спешил в столицу, с великою опасностью пробрался сквозь суда Российские и, не смея отразить их силою, ожидал спасение от чуда. В славной церкви Влахернской <...> хранилась так называемая риза Богоматери, к которой прибегал народ в случае бедствий. Патриарх Фотий с торжественными обрядами вынес ее на берег и погрузил в море, тихое и спокойное. Вдруг сделалась буря; рассеяла, истребила флот неприятельский, и только слабые остатки его возвратились в Киев.

(История государства Российского. Н.М. Карамзин)

В год 6374 (866). Пошли Аскольд и Дир на греков и пришли к ним в четырнадцатый год царствования Михаила. Цесарь же был в это время в походе на агарян, дошел уже до Черной реки, когда епарх прислал ему весть, что Русь идет на Царьград, и возвратился цесарь. Эти же вошли внутрь Суда, множество христиан убили и осадили Царьград двумястами кораблей. Цесарь же с трудом вошел в город и всю ночь молился с патриархом Фотием в церкви святой Богородицы Влахернской, и вынесли они с пением божественную ризу святой Богородицы и погрузили в реку. Была в это время тишина и море было спокойно, но тут внезапно поднялась буря с ветром, и встали огромные волны, и разметало корабли безбожной Руси, и прибило их к берегу, и переломало, так что немногим из них удалось спастись от этой беды и вернуться домой.

(Повесть временных лет)

А - Восточная Империя, о которой говорится в первом тексте, это Византия.

В - Аскольд и Дир осадили Константинополь с суши.

С - Жители Константинополя исповедовали христианство.

Д - Русские войска состояли только из славянских воинов.

Е - Во время похода Аскольда и Дира императором Византии был Михаил I.

Правильный ответ - А, С

Задание 03

Расположите в хронологическом порядке названия городов по времени их основания или первого упоминания в летописях:

1. 1
2. 2
3. 3
4. 4
5. 5

А - Керчь

В - Смоленск

С - Ярославль

Д - Юрьев-Польский


Е - Сергиев Посад

Правильный ответ - А-1 В-2 С-3 D-4 Е-5

Задание 04

Рассмотрите предложенные изображения.

Соотнесите их номера с названиями исторических событий.



1. 1
2. 2
3. 3
4. 4
5. 5

А - Олег Вещий осаждает стены Константинополя на кораблях по суше

В - князь Владимир принимает крещение в православную веру

С - видение святых Бориса и Глеба стражнику Пелугию накануне Невской битвы

Д - Александр Невский принимает папских легатов

Е - Дмитрий Иванович, князь Московский, получает благословение Сергия Радонежского перед Куликовской битвой

Правильный ответ - А-1 В-2 С-3 D-4 Е-5

Задание 05

Укажите те сражения, в которых победу одержали русские войска:

А - битва на Ворскле

В - битва на Чудском озере

С - оборона Доростола

Д - битва при Молодях

Е - битва на реке Воже

Ф - битва на реке Калке

Правильный ответ - В, D, Е

Задание 06

Задание посвящено участию уральцев в Великой Отечественной войне.

Сопоставьте фотографии памятников героям-уральцам с их описанием.

1.



2.



3.



4.



5.



1. 1
2. 2
3. 3
4. 4
5. 5

А - памятник красноармейцу Г.П. Кунавину, повторившему подвиг Александра Матросова, в Каменске-Уральском

В - памятник лётчику-истребителю Г.А. Речкалову, дважды герою Советского Союза, в станице Крылатской

С - памятник С.М. Спицыну, гвардии лейтенанту, погибшему при форсировании Днепра, на Алее героев в Ирбите

Д - памятник И.А. Кукарину, гвардии рядовому, в Среднеуральске

Е - памятник герою-разведчику Н.И. Кузнецову в посёлке Кузнецовский

Правильный ответ - А-1 В-2 С-3 D-4 Е-5

Задание 07

Прочитайте текст. **Укажите все верные суждения, относящиеся к данному тексту.**

Используйте свои знания и, при необходимости, дополнительную информацию.

Кафтан – верхняя одежда, с длинными рукавами, с пуговицами или кляпышами и петлицами для застёжки наперед. Кафтаны шились атласные, бархатные, байберековые, зарбафные, камчатные, объяринные, тафтяные, зуфные, суконные, мухояровые, крашенинные. Покрой и украшения кафтанов были чрезвычайно разнообразны. К нарядным кафтанам пришивали или пристегивали высокий стоячий воротник, закрывавший весь затылок, сзади воротника отложное ожерелье, к краям рукавов запястье, а к полам круживо, для украшения коих употребляли жемчуг и камень; петлицы били по большей части длинные с кисточками. Зад кафтана иногда делался несколько короче переда для того, чтобы видны были задки нарядных сапогов. Столовые кафтаны употреблялись государями, когда они являлись в столовую; ездовые – при выезде за город; дождевые – при ненастной погоде; смирные – при похоронах, панихидах и вообще во время траура. Кафтаны носили цари, царицы, царевичи и царевны, князья, княгини и княжны, бояре, духовные лица, житые люди, посадские, крестьяне. *(П.И. Савваитов. Описание старинных русских утварей, одежд, оружия, ратных доспехов и конского прибора, в азбучном порядке расположенное.)*

А - Кафтан – это верхняя одежда на застёжках.

В - Кафтаны носили только представители высшей знати.

С - Кафтаны были распространены в России в XVII веке.

Д - Кафтан – это верхняя одежда без застёжек.

Е - К нарядным кафтанам пристёгивались или пришивались украшенные вышивкой воротники.

Ф - Кафтаны никогда не надевались в дождливую погоду.

Правильный ответ - А, С, Е

Задание 08

Рассмотрите изображения городских укреплений.

Укажите два верных суждения.


1) Псковский кремль



2) Московский Кремль



3) Нижний Новгород, кремль



4) Казань, кремль



5) крепостная стена Соловецкого монастыря



А - Крепости под номерами 1,2 построены в столицах княжеств.

В - Крепости под номерами 3,5 построены в столицах княжеств.

С - Крепость под номером 2 была построена при Иване Калите.

Д - Крепость под номером 5 находится на берегу реки Волхов.

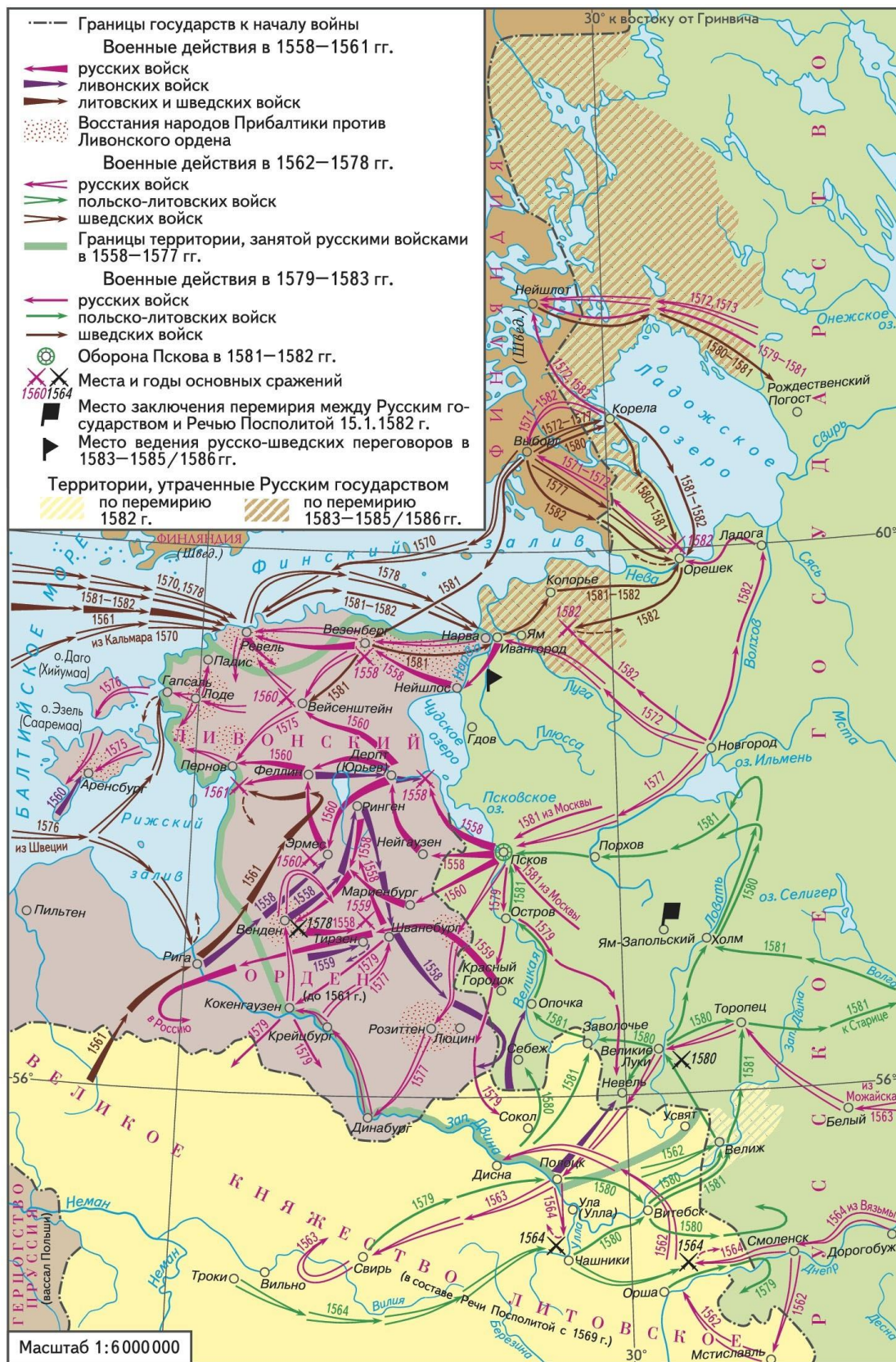
Е - Крепость под номером 4 находится на территории древнего государства Волжская Булгария.

Правильный ответ - А, Е

Задание 09

Рассмотрите карту и укажите все верные суждения.

ЛИВОНСКАЯ ВОЙНА 1558–1583 гг.



А - Крепости Ям и Копорье были утрачены Россией по Плюсскому перемирию 1583, 1585-1586 гг.

В - В 1581 году Псков осаждали шведские войска.

С - В ходе военных действий Новгород был захвачен войсками Ливонского ордена.

Д - Великое княжество Литовское, изображенное на карте, с 1569 г. вошло в состав другого государства.

Е - Шведское королевство не являлась участником Ливонской войны.

Ф - Ям-Запольское перемирие было заключено в 1582 году.

Правильный ответ - А, D, F

Задание 10

Прочитайте тексты, рассмотрите иллюстрации и укажите все верные суждения.

Фото 1. Памятник Александру II, находился на территории площади 1905 года, снесён




Рис. 2. Памятник борцам за власть Советов в посёлке Верх-Нейвинском. Установлен в 1922 году на постаменте памятника Александру II



Чугунную плиту для церемонии отлили на Кыштымском заводе, надпись на ней гласила: «19 февраля 1911 года, в 50-ую годовщину освобождения крестьян от крепостной зависимости ЦАРЕМ ОСВОБОДИТЕЛЕМ АЛЕКСАНДРОМ ВТОРЫМ, в 18-м году царствования ИМПЕРАТОРА НИКОЛАЯ ВТОРАГО, при министре народного просвещения, Пермском губернаторе, епископе Екатеринбургском и Ирбитском, главном начальнике Уральских горных заводов, Екатеринбургском голове, председателе Екатеринбургской уездной земской управы Уральским обществом любителей естествознания заложено здание музея ИМПЕРАТОРА АЛЕКСАНДРА II, на земле, бесплатно предоставленной обществу

Екатеринбургским городским самоуправлением. Да послужит под Божьим благословением сей музей на пользу науке и процветанию Уральского края». (Надпись на чугунной плите, предназначенной для музея имени императора Александра II, музей не был построен)

В 1901 году в посёлке произошло событие, объединившее культуру и церковь, светскую власть и простой народ. Напротив Волостного правления, на заводской площади, к двадцатилетней памяти в «Бозе почившего» государя Императора Александра II был установлен на высоком каменном постаменте отлитый из чугуна на Каслинском заводе бюст царю-освободителю Императору Александру II.

(Из дневника блогера-путешественника, действительного члена "Русского географического общества" Дмитрия Карпунина)

А - памятники в Екатеринбурге и в посёлке Верх-Нейвинском были установлены в год 50-летия отмены крепостного права

В - Императора Александра II в народе называли Освободителем в честь отмены им крепостного права

С - памятник императору в посёлке Верх-Нейвинском и памятную плиту для музея отливали на одном и том же чугунолитейном заводе

Д - после революционных событий 1917 года памятники императору Александру II в Екатеринбурге и в посёлке Верх-Нейвинском снесли, а на постаментах установили другие скульптуры

Е - музей имени Александра II планировали установить тогда, когда город Екатеринбург был центром Екатеринбургской губернии

Ф - в 1911 году исполнилось не только 50 лет со дня отмены крепостного права, но и 30 лет со времени трагической гибели императора Александра II

Правильный ответ - В, D, F

Вариант 3

Задание 01

Укажите всех князей, носивших титул великого князя Киевского:

А - Александр Невский

В - Борис Владимирович

С - Иван II Красный

Д - Мстислав Владимирович Великий

Е - Глеб Владимирович

Ф - Всеволод Большое Гнездо

Правильный ответ - А, D, F

Задание 02

Прочитайте два текста. **Укажите все верные суждения, относящиеся к описываемым событиям.**

Игорь <...> собрал другое многочисленное войско, призвал Варягов из-за моря, нанял Печенегов - которые дали ему аманатов в доказательство верности своей - и чрез два года снова пошел в Грецию со флотом и с конницею. Херсонцы и Болгары вторично дали знать Императору, что море покрылось кораблями Российскими. Лакапин, <...> немедленно отправил послов к Игорю. Встретив его близ Дунайского устья, они предложили ему дань, какую некогда взял храбрый Олег с Греции; обещали и более, ежели Князь благоразумно согласится на мир; старались также богатыми дарами обезоружить корыстолюбивых Печенегов. Игорь остановился и, созвав дружину свою, объявил ей желание Греков. "Когда Царь, - ответствовали верные товарищи Князя Российского, - без войны дает нам серебро и золото, то чего более можем требовать? Известно ли, кто одолеет? мы ли? они ли? и с морем кто советен? Под нами не земля, а глубина морская: в ней общая смерть людям". Игорь принял их совет, взял дары у Греков на всех воинов своих, велел наемным Печенегам разорять соседственную Болгарию и возвратился в Киев.

(История государства Российского. Н.М. Карамзин)

В год 6452 (944). Игорь собрал воинов многих: варягов, и русь, полян, и славян, и кривичей, и тиверцев, и нанял печенегов, и заложников у них взял, и пошел на греков в ладьях и на конях, желая отомстить за себя. Услышав об этом, корсунцы послали к Роману со словами: «Вот идут русские, покрыли море кораблями». Также и болгары послали весть, говоря: «Идут русские и наняли себе печенегов». Услышав об этом, цесарь прислал к Игорю лучших бояр с мольбою, говоря: «Не ходи, но возьми дань, какую брал Олег, прибавлю и еще к той дани». Также и к печенегам послал паволоки и много золота. Игорь же, дойдя до Дуная, созвал дружину, и стал с нею держать совет, и поведал ей речь цесареву. Сказала же дружина Игорева: «Если так говорит цесарь, то чего нам еще нужно, — не бившись, взять золото, и серебро, и паволоки? Разве знает кто — кто одолеет: мы ли, они ли? Или с морем кто в союзе? Не по земле ведь ходим, но по глубине морской: всем

общая смерть». И послушал их Игорь и повелел печенегам воевать Болгарскую землю, а сам, взяв у греков золото и паволоки на всех воинов, возвратился назад и пришел к Киеву восвояси.

(Повесть временных лет)

А - Аманаты, о которых говорится в первом тексте, это заложники, которых оставили Игорю печенеги в подтверждение своей верности.

В - Войска Игоря переправились через Чёрное море и осадили Константинополь.

С - Переговоры с посланниками Византийского императора проходили на реке Дунай.

Д - Игорь единолично решил принять предложение византийских посланников.

Е - Дружинники Игоря разграбили Болгарские земли.

Правильный ответ - А, С

Задание 03

Расположите в хронологическом порядке названия городов по времени их основания или первого упоминания в летописях:

1. 1
2. 2
3. 3
4. 4
5. 5

А - Феодосия

В - Новгород

С - Ярославль

Д - Переславль- Залесский


Е - Астрахань

Правильный ответ - А-1 В-2 С-3 Д-4 Е-5

Задание 04

Рассмотрите предложенные изображения.

Соотнесите их номера с названиями исторических событий.



1. 1
2. 2
3. 3
4. 4
5. 5

А - князь Игорь с флотом и конницей отправляется во второй поход на Царьград

В - княгиня Ольга принимает крещение от византийского императора

С - князь Святослав выбирает дары от греческих послов

Д - князь Владимир собирается взять в жёны Рогнеду, дочь полоцкого князя Рогволода

Е - князь Ярослав беседует со шведской принцессой Ингигердой, которая стала его второй женой и приняла православие с именем Ирина

Правильный ответ - А-1 В-2 С-3 Д-4 Е-5

Задание 05

Укажите те сражения, в которых победу одержали русские войска:

- А - битва при Молодях
- В - битва на реке Альте
- С - битва за Саркел (Белую Вежу)
- Д - битва при Аркадиополе
- Е - битва на Буге
- Ф - стояние на Угре

Правильный ответ - А, С, Ф

Задание 06

Задание посвящено участию уральцев в Великой Отечественной войне. Сопоставьте фотографии памятников героям-уральцам с их описанием.



1. 1
2. 2
3. 3
4. 4
5. 5

А - памятник сапёру И.В. Абрамову в г. Каменск-Уральский

В - памятник разведчику Н.И. Кузнецову на площади УЗТМ в Екатеринбурге

С - памятник красноармейцу Г.П. Кунавину, повторившему подвиг Александра Матросова, в Богдановиче

Д - памятник дважды герою Советского Союза летчику-истребителю Г.А. Речкалову в селе Зайково Ирбитского района

Е - памятник летчику-истребителю, командиру эскадрильи А.А. Елохину на Аллее героев в Ирбите

Правильный ответ - А-1 В-2 С-3 D-4 Е-5

Задание 07

Прочитайте текст. **Укажите все верные суждения, относящиеся к данному тексту.**

Используйте свои знания и, при необходимости, дополнительную информацию.

Шелом, Шлем – воинское наголовье из булата, стали, меди или железа. Нижняя часть (околыш) его называлась венцем, верхняя – вершьем и наверхшьем, а прилегающая к наверхшью – подвершьем и подвершцем. Для защиты лица от поперечных ударов мечем или саблею, к передней части венца приделывалось забрало, называвшееся личиною; но у большей части шлемов, вместо личины, пропускала в отверстие полки или козырька, металлическая полоса или, так называемый, нос, который, смотря по надобности, мог подниматься и опускаться помощью шурупца. Для прикрытия и защиты ушей и затылка, привешивались к шлему в соответственных местах наушники или уши и затылок, которые делались из одной или нескольких пластинок, выгнутых и наложенных краями одна на другую. Наушники завязывались внизу подбородка завязками. У некоторых шлемов сзади венца прикреплялись кольчужные железные сетки или бармицы, которыми прикрывали не только уши, щеки и затылок, но и плеча; эти бармицы запахивались перед лицом и застегивались у шеи или на груди иногда одною, а иногда двумя или тремя запонами. Подобные бармицы прикреплялись иногда к передней части венца, вместо личин; в них делались отверстия для глаз.

(П.И. Савваитов. Описание старинных русских утварей, одежд, оружия, ратных доспехов и конского прибора, в азбучном порядке расположенное.)

А - Шелом – это мужской головной убор.

В - Шелом – это часть воинского доспеха, защищающая голову.

С - Венец – нижняя часть шлема, к которой прикреплялись бармицы.

Д - Все шлемы в передней части имели забрало.

Е - Бармицы – это защитное оплечье из металлической сетки или пластин.

Ф - Бармицы и бармы – это одно и то же.

Правильный ответ - В, С, Е

Задание 08

Рассмотрите изображения городских укреплений.

Укажите два верных суждения из предложенных.

1) Старая Ладога, крепость



2) Казань, кремль



3) Копорье, крепость



4) Московский Кремль



5) Ивангородская крепость



А - Крепости под номерами 4,5 построены в правление одного государя.

В - Крепости под номерами 2,3 построены в столицах княжеств.

С - Крепость под номером 1, по преданию, была построена на месте первой резиденции Рюрика.

Д - Крепость под номером 5 находится на берегу Балтийского моря.

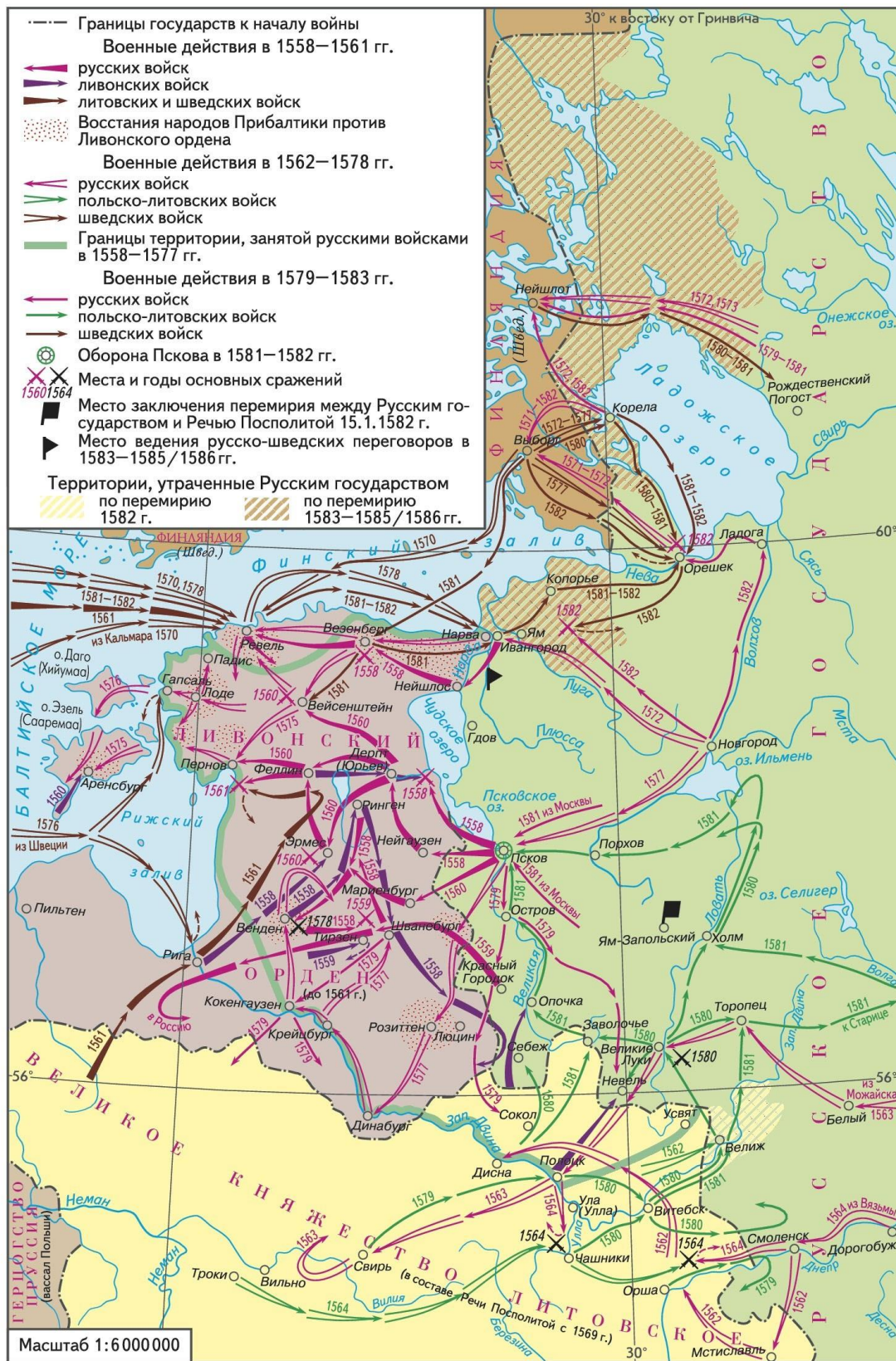
Е - Крепость под номером 3 перешла под управление Московского государства по условиям Плюсского перемирия.

Правильный ответ - А, С

Задание 09

Рассмотрите карту и укажите все верные суждения.

ЛИВОНСКАЯ ВОЙНА 1558–1583 гг.



А - Крепости Ям и Копорье были приобретены Россией по Плюсскому перемирию 1583, 1585-1586 гг.

В - Столкновение русских и литовских войск в 1564 году на реке Улле в битве при Чашниках завершилось победой литовцев.

С - В ходе военных действий Выборг был захвачен польско-литовскими войсками.

Д - В 1582 году шведские войска осаждали крепость Орешек, однако не сумели взять её.

Е - В результате Ливонской войны существенно увеличил свою территорию Ливонский орден.

Ф - Во время Ливонской войны сражения проходили в том числе на территории королевства Швеции.

Правильный ответ - В, D, F

Задание 10

Прочитайте тексты, рассмотрите иллюстрации и укажите все верные суждения.

В 1702 году Сибирский приказ получил челобитную: "...бьет челом тулянин, оружейного и железного дела мастер Никита Демидов: на Туле де у него железные заводы... а ныне по именному указу около Тулы дубовых лесов... рубить не велено и... на заводах чинится остановка: великому Государю пожаловать бы его, Демидова, велеть с Москвы отпустить в Сибирь на Верхотурские железные заводы и на тех заводах воинские припасы лить".<...>

Просьба Демидова никаких затруднений не встретила. Возможно, потому, что мастер был лично знаком с царем и числился у него в большом почете. Но громче за него говорило его мастерство: Никита Демидов считался одним из лучших оружейников и кузнецов Тулы, а значит, и России. (А. Карфилов, ст. научный сотрудник ГАУК СО «Невьянский государственный историко-архитектурный музей». Невьянский завод: как все начиналось. Урал, 2004, №7)

4 марта 1702 года Петр I подписал Указ о передаче завода со всеми строениями и припасами «в вечное и потомственное владение Никите Демидову, с условием возмещения стоимости в течение 5 лет воинскими припасами и оружием». Завод передавался на правах посессии – обязательной поставки в казну железа и вооружения. Демидову было «делать велено пушки, мортиры, фузеи, сабли, тесаки, палаши, копья, латы, шишаки,

проволоку, сталь и иные снасти».

(Свод петровских памятников России и Европы. Институт Петра Великого)

Фото 1. Памятник Петру I и Никите Демидову, скульптор А. Е. Надтока. Открыт 15 декабря 1994 года на территории ЗАО «Невьянский машиностроительный завод»



Фото 2. Памятник Петру I и Н. Д. Демидову у башни Демидовых в Невьянске, скульптор К. В. Грюнберг и архитектор А. Г. Мазаев.



А - Изображенная на памятниках встреча Никиты Демидова с Петром I не является выдумкой, она могла состояться в реальности.

В - Никита Демидов родился в Невьянске.

С - Никита Демидов сам был искусным оружейным мастером.

Д - Невьянский завод был первым заводом Н. Демидова на Урале.

Е - Невьянский завод был построен Н. Демидовым на собственные деньги.

F - Невьянский завод был построен в 1702 году.

Правильный ответ - А, С, D